


RADNI ZADACI UZ GOSTUJUĆU IZLOŽBU
“DUBROVNIK U DOMOVINSKOM RATU 1991.-1995.”

Hrvatski povijesni muzej
30. ožujka - 29. listopada 2017.
Muzej Domovinskog rata Dubrovnik



Ime i prezime:
Škola:
Datum:

Na jugu današnje Hrvatske, na malenom području Dubrovačko-neretvanske županije, razvila se državna tvorevina - DUBROVAČKA REPUBLIKA. Bila je to država koja je svoju moć temeljila na posredničkoj trgovini, jakom pomorstvu i diplomatskim vještinama. Teritorijalno malena i okružena velikim silama poput Osmanskog Carstva i Mletačke Republike, uspjela je tijekom stoljeća sačuvati neovisnost i svoju najveću vrijednost - slobodu (*libertas*).

1. Na lenti vremena označi navedene događaje iz povijesti Dubrovačke Republike: *veliki potres, ukidanje Dubrovačke Republike, vrhunac moći Republike, Zadarski mir, opsada Dubrovnika.*

SREDNJI VIJEK

NOVI VIJEK

SUVREMENO DOBA

Dubrovačka sloboda, ali i sloboda cijele Hrvatske bila je ponovno ugrožena početkom 90-ih godina kada se na području Hrvatske rasplamsao rat. To razdoblje nosi naziv Domovinski rat i označava vrijeme novije hrvatske povijesti od 1991. do 1995., a obilježeno je oružanom pobunom dijela Srba u Hrvatskoj, vojne agresije JNA te stvaranja samostalne i neovisne Republike Hrvatske.

2. Na lenti vremena označi navedene događaje iz Domovinskog rata: *operacije Bljesak i Oluja, Međunarodno priznanje, Balvan-revolucija, pad Vukovara, Deklaracija o uspostavi samostalne i neovisne RH.*

1991.

1992.

1993.

1994.

1995.

3. A) U prvoj izložbenoj cjelini pronaći ćeš podatke kako je bilo rašireno uvjerenje da do rata u Dubrovniku neće doći, kako su pripreme za obranu Dubrovnika tekle sporo, te je stoga Dubrovnik rat dočekao gotovo nepripremljen. Što misliš, zašto?

B) Promotri izloženo oružje. Kako je nastalo?



4. A) U jednom od interaktivnih okvira prikazan je (ne)oštećeni kip sveca zaštitnika Dubrovnika. Dubrovčani ga još nazivaju svojim *parcem*. Kako se on zove? Označi!

sv. Vlaho

sv. Duje

sv. Kristofor

B) Daske su skrivale kip najpoznatijeg dubrovačkog pisca iz 17. stoljeća.
 Autor je poznatih stihova *O lijepa, o draga, o slatka slobodo.*

Zaokruži njegovo ime:

A) Marko Marulić

B) Marin Držić

C) Ivan Gundulić

5.

U interaktivnim okvirima pronadi fotografije koje prikazuju važne dubrovačke spomenike, u vrijeme rata zaštićene daskama. Ispod svake fotografije napiši naziv spomenika.





6.

Pronadi na izložbi ove dvije fotografije i opiši što prikazuju.

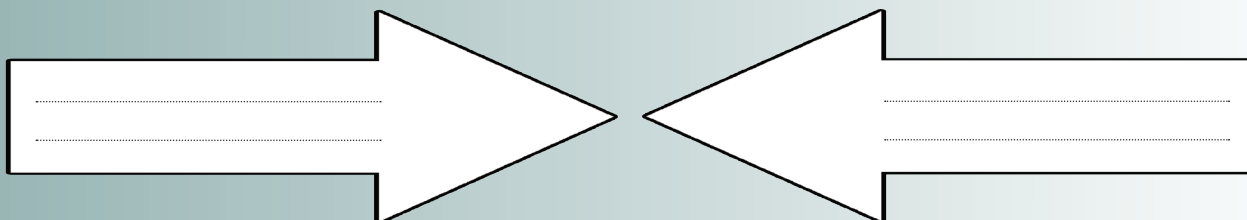




Snage JNA započele su opći napad na dubrovačko područje početkom listopada 1991. i ubrzo su zauzele cijelo područje od Konavala do Stona, a Dubrovnik je opkoljen. Nasuprot brojnim i dobro naoružanim snagama JNA, koje su uglavnom bile popunjene ljudstvom iz Crne Gore, stajali su malobrojni i slabo naoružani hrvatski branitelji. JNA je s kopna i mora bombardirala Dubrovnik i njegove kulturno-povijesne spomenike, a grad je ostao bez struje, hrane i vode.

7.

Na crte unutar strelica označi sukobljene strane: JNA (Jugoslavenska narodna armija), ZNG (Zbor narodne garde), MUP (Ministarstvo unutarnjih poslova), TO (Teritorijalna obrana) Crne Gore.



8.

Nadopuni!

Najveći napad koji je Dubrovnik doživio tijekom višemjesečne opsade dogodio se _____ (datum) na blagdan _____ (ime sveca). Dubrovčani taj dan nazivaju "crni petak dubrovački" i uspoređuju s velikim _____ (događaj) koji je grad zadesio davne 1667. Prilikom fotografiranja intenzivnog granatiranja stare gradske jezgre, poginuo je poznati dubrovački fotograf i branitelj _____ (ime i prezime).



9. Brdo iznad Dubrovnika bilo je važan geostrateški položaj i predstavljalo je jedinu točku izvan grada koja je bila neosvojena. Na njemu je još u vrijeme Napoleona izgrađena tvrđava Imperial, a u vrijeme opsade Dubrovnika u njoj je bilo tridesetak hrvatskih branitelja i bila je jedna od glavnih meta JNA. Označi kako se to brdo zove.

Mokošica Golubov kamen Srđ

Tijekom listopada 1991. pokrenuta je inicijativa probijanja pomorske blokade i dostave nužne pomoći Dubrovniku u hrani i lijekovima. To je bio prvi humanitarni konvoj koji je uplovio u luku Gruž 31.10.1991. i probio pomorsku blokadu grada. Bila je to simbolična pomoć koja je izražavala solidarnost cijele Hrvatske gradu i stvarna materijalna pomoć u lijekovima i hrani.

10. Kako se zvao taj konvoj? Zaokruži.

A) Konvoj Libertas
B) Konvoj sv. Vlaho
C) Konvoj Slavija

11. Pronađi podatke o Odredu naoružanih brodova (ONB). Koja je bila njihova funkcija?

.....

.....

Unatoč blokadi i razaranju, Dubrovnik je uspio ostati pod nadzorom Hrvatske vojske te je započelo oslobađanje okupiranog dubrovačkog područja koje je završeno u listopadu 1992. Bila je to prva oslobodilačka akcija Hrvatske vojske i rezultirala je izlaskom hrvatskih snaga na međunarodno priznate granice Republike Hrvatske.

12. Akcija Tigar bila je usmjerena na oslobađanje Golubovog kamena. Što je Golubov kamen i u čemu je bila njegova važnost?

.....

13. Pronađi predmet s fotografije i odgovori:



.....

Kome je predmet pripadao?

Što je prikazano na fotografiji?

.....

14. Pronađi interaktivni okvir s natpisom STROGO POVJERLJIVO.

A) Koju vrstu tajne skriva?

B) Kojoj je brigadi pripadao prikazani ratni zemljovid?

15. U Dubrovačkoj Republici sloboda (*libertas*) bila je najveća vrijednost. Stoga je na tvrđavi Lovrijenac uklesan latinski natpis koji je bio i geslo Dubrovačke Republike. Napiši njegov latinski naziv i njegov prijevod na hrvatski jezik.

Latinski naziv

.....



Hrvatski prijevod

.....

Tijekom opsade Dubrovnika stradalo je civilno stanovništvo i vrijedna kulturna baština - progonoštvo, ranjavanje, uništavanje kulturne baštine, spaljivanje i uništavanje sela, komunikacijskih sustava, gospodarskih objekata, vrtića i škola. Promotri prikazane fotografije u izložbenoj cjelini *Stradanje stanovništva* i odgovori na sljedeća pitanja.


16.

A) Opiši predmet prikazan na fotografiji.

.....

B) Što prikazuje fotografija?


.....



A



B



17.

A) Koji je naziv ove fotografije?

.....

B) Zašto je identitet dječaka dugo bio nepoznat?

.....

.....

18.

Pronađi na izložbi sljedeće fotografije i pridruži im odgovarajući naziv. U pronalasku odgovora, posluži se interaktivnim okvirima.

A) Atelje dubrovačkog slikara Ive Grbića

B) Amerlingova fontana

C) Vrtić Anuška Radeljević

D) Knjižnica samostana Male braće



○



○



○



○

19.

Unatoč blokadi grada, novine u Dubrovniku nisu prestale izlaziti, a izlazile su kao ratna izdanja, često s natpisom *Kad pročitate, prosljedite drugima!* Pronađi na izložbi primjerke ratnih novina i napiši njihove nazive.

20.

Što je *Glasić iz Dubrovnika*?

Provjeri svoje odgovore!

1. Srednji vijek—Zadarski mir, vrhunac moći, Novi vijek—veliki potres, ukidanje Republike, Suvremeno doba—opsada Dubrovnika; 2. 1991.—balvan revolucija, Deklaracija, pad Vukovara, 1992. međunarodno priznanje, 1995. Bjesak i Oluja; 3. a) jer je bio grad pod zaštitom UNESCO-a, b) U tvornici ugljenografskih proizvoda, prenamijenjeno lovačko i sportsko oružje; 4. a) sv. Vlaho, b) Ivan Gundulić; 5. Onofrijeva fontana, crkva sv. Vlaho, Orlanđov stup; 6. Hrvatski vojnič znak grada — fotografija izasla u Slobodnoj Dalmaciji, željelo se poručiti da hrv. vojnici još uvijek imaju kontrolu nad gradom, slika Grad na mišamu izasla u crnogorskom izdanju Rat za mir — poruka kako JNA vodi rat zbog mira; 7. JNA, TO—ZNG, MUP; 8. 6.12.1991., sv. Nikola, potresom, Pavo Urban; 9. Srd; 10. Konvoj Libertas; 11. Dopremanje potrebne pomoći u blokiranom gradu; 12. geostrateška i simbolična važnost; 13. vojna odora, janku Bobetku; 14. ratni zemljovid, 163. brtgađi; 15. Non bene pro toto libertas venditur auro—sloboda se ne prodaje za sva zлата; 16. a) kriz od gelera, b) ukrcaj/evakuaciju prognanika na trajekt u luci Gruz; 17. a) Mali vodonoša, b) zato jer se nije znalo da postoji i fotografija njegova lica; 18. B, D, C, A; 19. Dubrovački vjesnik, Glas iz Dubrovnika; 20. prvi list namijenjen djeci u ratu.